



Adı Soyadı :

Numarası :

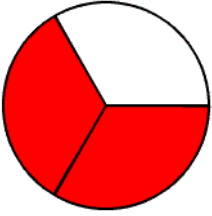
Çalışma Kağıdı 1

Konu: Bir Çokluğun Belirtilen Birim Kesir Kadarını Bulma

Kazanım 1: Payı paydasından küçük kesirler elde eder. 2: Bir çokluğun, belirtilen birim kesir kadarını belirler.

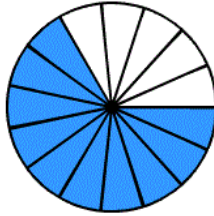
Kesirler

Aşağıda verilen şekillerin boyalı kısımlarını kesir olarak ifade edelim.



.....

.....



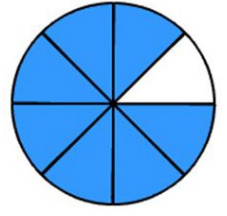
.....

.....



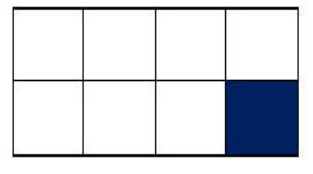
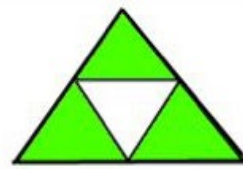
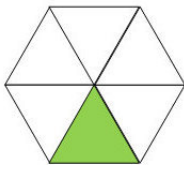
.....

.....

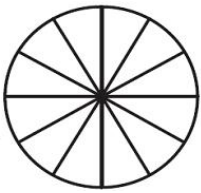


.....

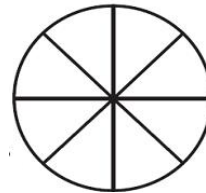
.....

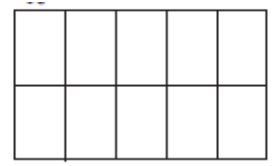
Aşağıdaki şekillerden hangilerinin boyalı kısımları birim kesri ifade etmektedir?

Aşağıdaki şekillerin verilen kesir kadarını boyayalım.



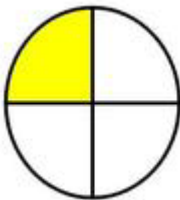
$$\frac{10}{12}$$


$$\frac{2}{5}$$


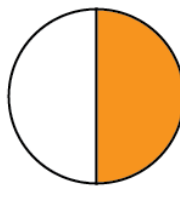
$$\frac{3}{8}$$


$$\frac{8}{10}$$


Aşağıdaki şekillerin altına bütün, yarım ve çeyrek yazınız.



.....



.....



.....

Aşağıdaki kesirlerin okunuşlarını ve birim kesirlerini karşlarına yazınız.

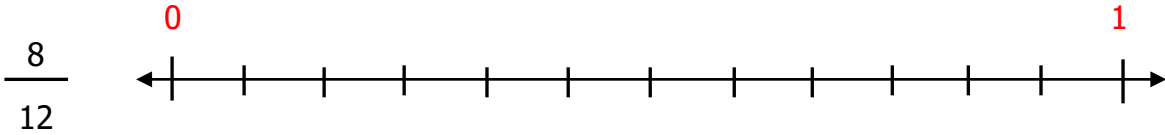
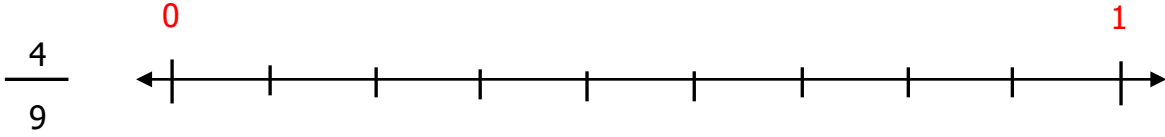
$$\frac{3}{8} : \dots\dots\dots \frac{\dots\dots}{\dots\dots}$$

$$\frac{6}{10} : \dots\dots\dots \frac{\dots\dots}{\dots\dots}$$

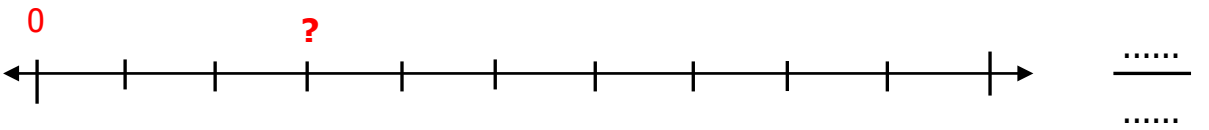
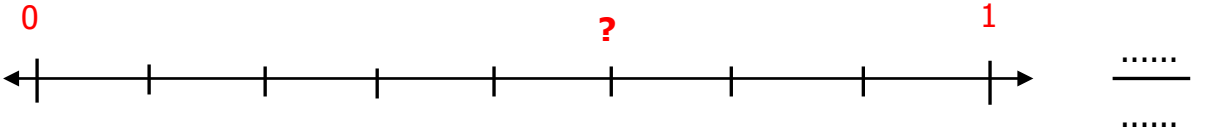
$$\frac{9}{20} : \dots\dots\dots \frac{\dots\dots}{\dots\dots}$$

$$\frac{5}{15} : \dots\dots\dots \frac{\dots\dots}{\dots\dots}$$

Aşağıdaki kesirleri sayı doğrusunda gösteriniz.



Aşağıdaki sayı doğrularında soru işareti ile (?) gösterilen kesirleri yazınız.



Problemler



Sınıfımızdaki 36 öğrencinin $\frac{1'}{3}$ i kız öğrencidir. Buna göre sınıfımızda kaç kız öğrenci vardır?



Bir kolideki 30 yumurtanın $\frac{1'}{6}$ i kırılıyor. Buna göre kırılan yumurtaların sayısı kaçtır?